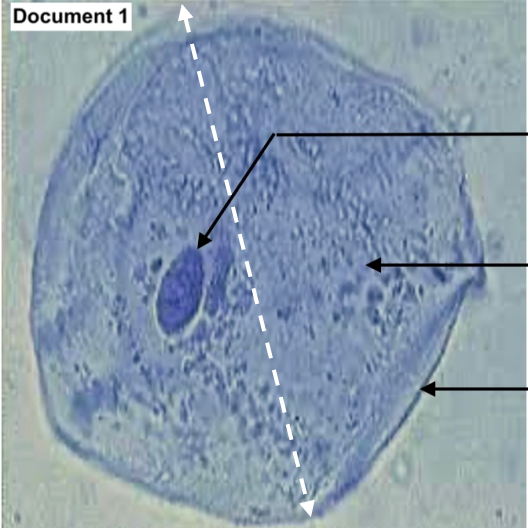
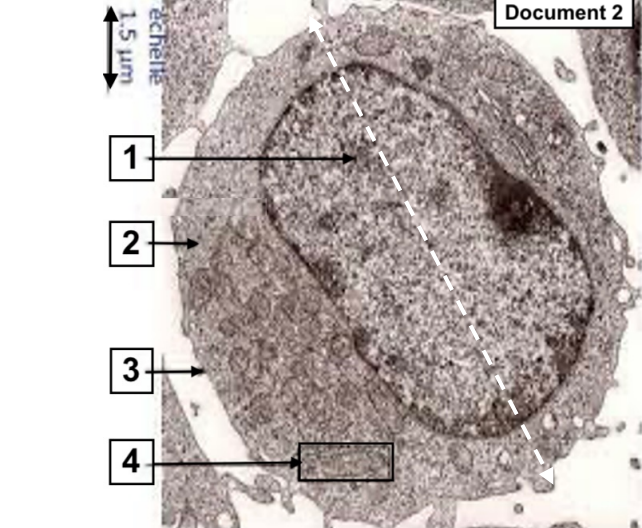

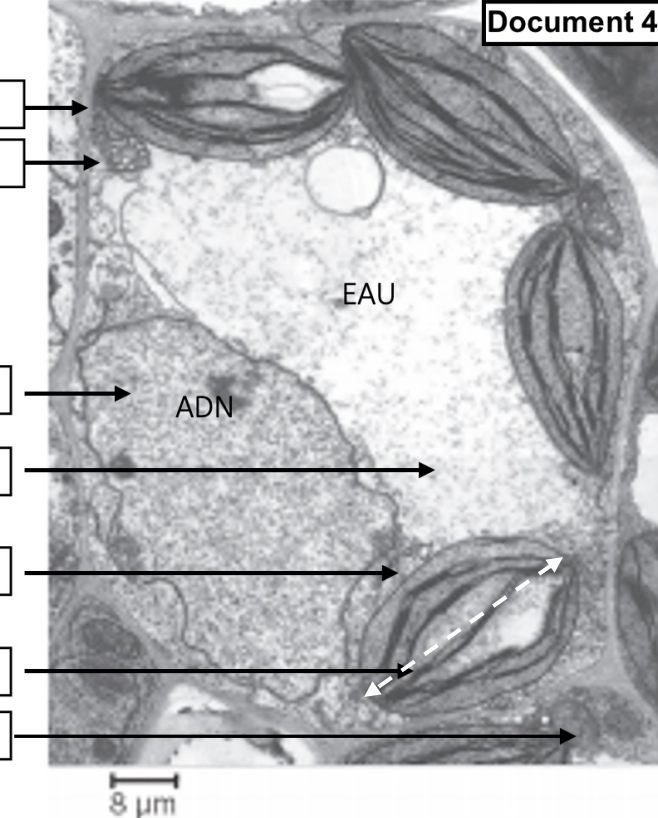


Activité : élucider l'organisation des cellules

1. Au microscope photonique (optique), électronique

Cellule animale observée au.....X.....	Cellule animale observée auX.....
<p>Document 1</p> 	<p>Document 2</p> 
Taille :	Taille d'une mitochondrie :
Cellule végétale chlorophyllienne observée au.....X.....	Cellule végétale chlorophyllienne observée auX.....
<p>Document 3</p> 	<p>Document 4</p> 
Taille :	Taille d'un chloroplaste :

Microscope optique	
Microscope électronique à transmission	
Microscope électronique à balayage	